


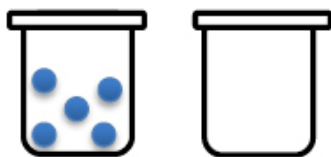
Zadania z matematyki dla klasy Id

Imię i nazwisko

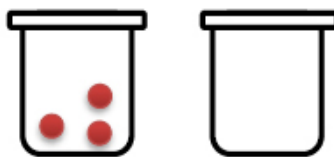
1. Połącz jabłka z jeżami.



2. Wpisz odpowiednie liczby. W pustych słojach dorysuj koraliki zgodnie z działaniami.



$$5 + \dots = 10$$



$$3 + \dots = 11$$



$$4 + \dots = 7$$



$$\dots + 2 = 9$$



$$\dots + 6 = 12$$

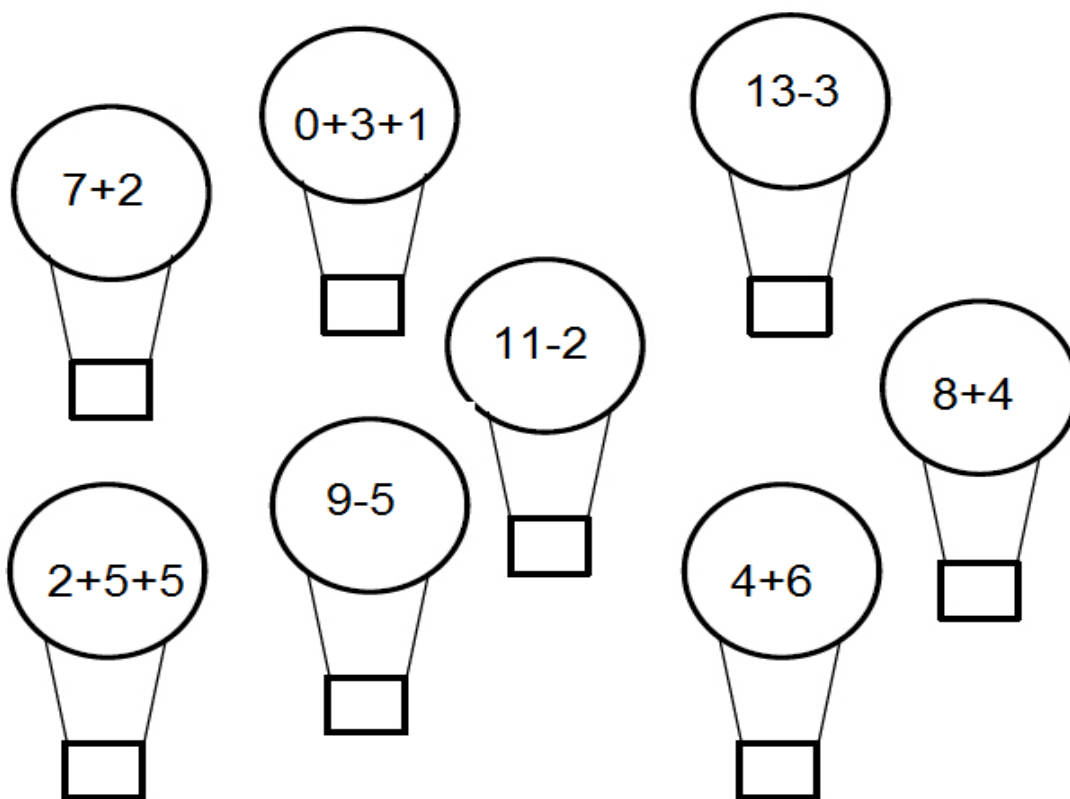


$$\dots + 4 = 6$$

5. Wykonaj obliczenia. Odszukaj wynik na puzzlach, wytnij je i przyklej na kartce w odpowiedniej kolejności wyznaczonej przez tabelę z działaniami.

$8+3=$ 6	$9-3=$ 8	$10+2=$ 13
$10-5=$ 5	$13-0=$ 7	$5+4=$ 3
$6-5=$ 4	$0+4=$ 12	$9-6=$ 10
$13-5=$ 9	$13-3=$ 11	$10-3=$ 1

6. Wykonaj działania. Balony z takimi samymi wynikami pokoloruj jednakowo.



Załącznik do zadania 5

